

FOR MCQ QUESTIONS: MASTER

REMINDER: READ CAREFULLY THE INSTRUCTIONS ON THE FRONT PAGE.
PERINGATAN: BACA DENGAN TELITI ARAHAN PADA MUKA SURAT HADAPAN.

Area:	<i>GENERAL KNOWLEDGE</i>	Sub-Area	<i>MALACCA SULTANATE</i>
-------	--------------------------	----------	--------------------------

1.	Which of the countries attacked Malacca?
	A. China and Singapore
	B. Dutch and British
	C. Portugal and Indonesia
1.	Negara-negara manakah berikut telah menyerang Melaka?
	A. China dan Singapura
	B. Belanda dan British
	C. Portugis dan Indonesia

2.	Which of the following states?
	A. Riau
	B. Johor
	C. Inderagiri
2.	Negara-negara manakah yang berikut merupakan pewaris Kesultanan Melayu Melaka?
	A. Riau.
	B. Johor.
	C. Inderagiri.

3.	The fall of Malacca Sultanate Empire was under the ruler of
	A. Sultan Iskandar Syah
	B. Sultan Mahmud Syah
	C. Sultan Mansor Syah
3.	Kejatuhan kekuasaan Kesultanan Melayu Melaka adalah ketika pemerintahan
	A. Sultan Iskandar Syah
	B. Sultan Mahmud Syah
	C. Sultan Mansor Syah

Area:	<i>GENERAL KNOWLEDGE</i>	Sub-Area	<i>MALAYSIA CONSTITUTION</i>
--------------	--------------------------	-----------------	------------------------------

4.	What provision does Article 152 of Federal Constitution refer to?
	A. Malay language is National Language
	B. Malay language is mother's tounge language
	C. Malay language is Malaysia language
4.	Apakah peruntukan yang dirujuk oleh Pekara 152 Perlembagaan Persekutuan?
	A. Bahasa Melayu ialah Bahasa Kebangsaan
	B. Bahasa Melayu ialah bahasa ibunda
	C. Bahasa Melayu ialah bahasa Malaysia
5.	Federal Constitution of Malaysia leading all laws in this country.
	A. Neutral
	B. Not True
	C. True
5.	Perlembagaan Malaysia mengatasi segala undang-undang di negara ini.
	A. Tdak Pasti
	B. Tidak Benar
	C. Benar
6.	The draft law must be tabled in Parliament.
	A. Not True
	B. True
	C. Neutral
6.	Draf undang-undang mesti dibentangkan terlebih dahulu di Parlimen.
	A. Tidak Benar
	B. Benar
	C. Tidak Pasti

Area:	<i>GENERAL KNOWLEDGE</i>	Sub-Area	<i>RUKUN NEGARA</i>
--------------	--------------------------	-----------------	---------------------

7. Which of the following is the objective of Rukun Negara?

- A. To achieve unity
- B. To develop fair community
- C. To create harmony

7. Yang manakah antara berikut merupakan objektif Rukun Negara?

- A. Mencapai perpaduan
- B. Membangunkan masyarakat yang adil
- C. Mewujudkan keharmonian

8. Progressive community in Rukun Negara is in line with _____.

- A. developmental of science and technology
- B. developmental of socio-cultural
- C. achievement of 2020

8. Masyarakat progresif dalam Rukun Negara adalah selari dengan _____.

- A. kemajuan sains dan teknologi
- B. kemajuan sosiobudaya
- C. pencapaian Wawasan 2020

9. Sultan Abu Bakar introduced traditional game Sepak Raga.

- A. True
- B. Salah
- C. Not Sure

9. Sultan Abu Bakar memperkenalkan permainan tradisional Sepak Raga.

- A. Betul
- B. False
- C. Tidak Pasti

Area:	<i>GENERAL KNOWLEDGE</i>	Sub-Area	<i>MALAYSIAN FESTIVALS</i>
--------------	--------------------------	-----------------	----------------------------

10. Four players involved in Mahjong, the traditional Chinese game.

A. False

B. Not Sure

C. True

10. Empat pemain terlibat dalam Mahjong, permainan tradisional masyarakat Cina.

A. Salah

B. Tidak Pasti

C. Betul

11. Dancing is the basic movement in Kho-Kho, traditional Indian game.

A. True

B. False

C. Not Sure

11. Tarian ialah pergerakan yang asas dalam permainan tradisional masyarakat India, Kho-Kho.

A. Betul

B. Salah

C. Tidak Pasti

12. In early history, female children involves in Batu Seremban, traditional Indian game.

A. True

B. False

C. Not Sure

12. Dalam sejarah awal, kanak-kanak perempuan terlibat dalam permainan tradisional India, Batu Seremban.

A. Betul.

B. Salah

C. Tidak Pasti.

Area:	<i>CRITICAL THINKING</i>	Sub-Area	<i>LOGIC REASONING</i>
--------------	--------------------------	-----------------	------------------------

13. High float rates caused one floating in the Dead Sea, Jordan.

- A. True**
- B. False**
- C. Not Sure**

13. Kadar apungan yang tinggi menyebabkan seseorang timbul di Laut Mati, Jordan.

- A. Betul**
- B. Salah**
- C. Tidak Pasti**

14. What is the odd number in order in the box below?

81	49	36	23
----	----	----	----

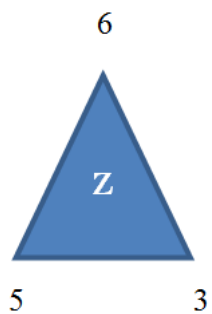
- A. 23**
- B. 49**
- C. 81**

14. Apakah nombor yang ganjil dalam susunan di dalam kotak di bawah?

81	49	36	23
----	----	----	----

- A. 23**
- B. 49**
- C. 81**

15. Z is.....inside the triangle below:

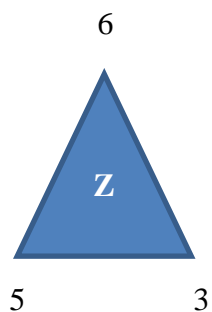


A. 6

B. 5

C. 3

15. Z ialah.....di dalam rajah segi tiga di bawah:



A. 6

B. 5

C. 3

16. The factors below show that Islamic religion accepted by people in Nusantara.

- I. The ruler did not forces anyone to convert to Islam.
- II. No differences between races in Islam.

A. False

B. True

C. Not Sure

16. Faktor berikut merujukkan Islam mudah diterima oleh penduduk di Nusantara.

- I. Pemerintah tidak memaksa seseorang untuk memeluk Islam.
- II. Tiada perbezaan antara kaum dalam Islam.

A. Salah

B. Betul

C. Tidak Pasti

Area:	<i>GENERAL KNOWLEDGE</i>	Sub-Area	<i>ENVIRONMENTAL ISSUES</i>
-------	--------------------------	----------	-----------------------------

17. What type of radiation that shows the following features;

- Higher energy level
- Shorter wavelengths.

A. Beta radiation

B. Alpha radiation

C. Ultraviolet radiation

17. Apakah jenis sinaran yang menunjukkan ciri-ciri berikut:

- Aras kuasa yang lebih tinggi
- Jarak gelombang yang lebih pendek.

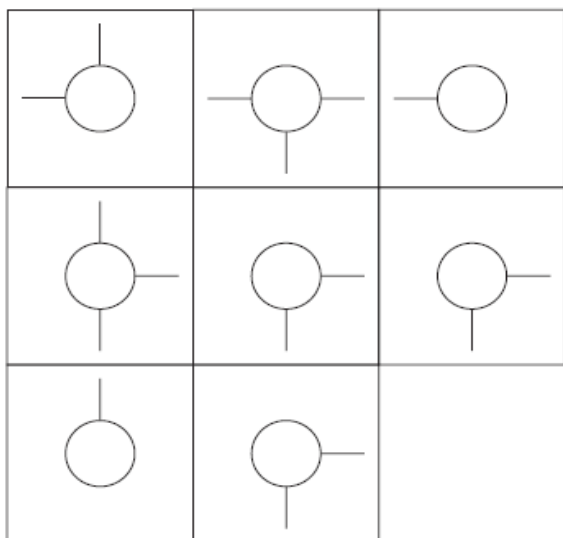
A. Sinaran beta

B. Sinaran alpha

C. Sinaran ultralembayung

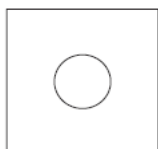
Area:	<i>CRITICAL THINKING</i>	Sub-Area	<i>PATTERN RECOGNITION</i>
--------------	--------------------------	-----------------	----------------------------

18.

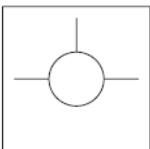


Tile that is not in the figure above is

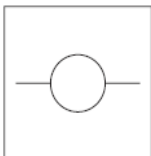
A.



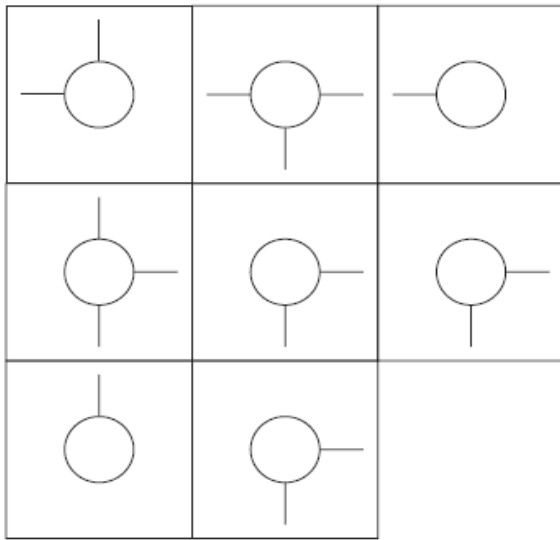
B.



C.

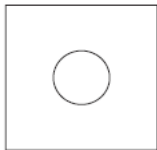


18.

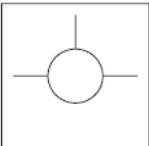


Jubin yang tiada dalam rajah di atas ialah

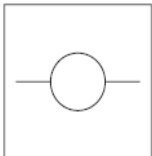
A.



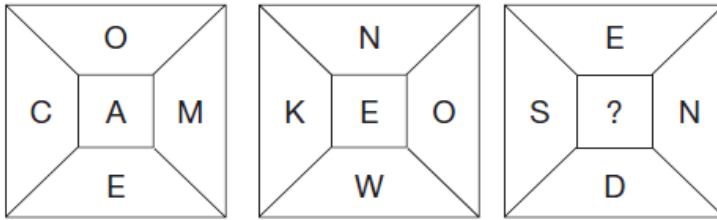
B.



C.



19.



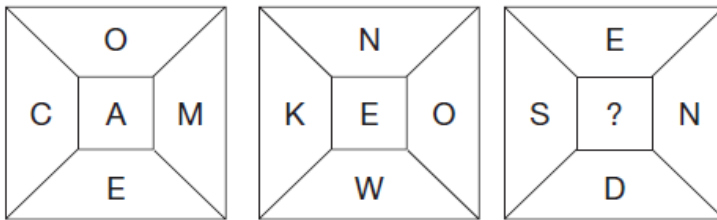
Name the letter in the above box that sign by?

A. U

B. T

C. V

19.



Namakan huruf di dalam petak di atas yang bertanda?

A. U

B. T

C. V

20.

A	C	F
E	?	J
J	L	?

A.

H	
	I

B.

G	
	O

C.

H	
	O

20.

A	C	F
E	?	J
J	L	?

A.

H	
	I

B.

G	
	O

C.

H	
	O