

## FOR MCQ QUESTIONS: DIPLOMA

**REMINDER: READ CAREFULLY THE INSTRUCTIONS ON THE FRONT PAGE.**  
**PERINGATAN: BACA DENGAN TELITI ARAHAN PADA MUKA SURAT HADAPAN.**

Area:	GENERAL KNOWLEDGE	Sub-Area	MELAKA SULTANATE
-------	-------------------	----------	------------------

1.	When was Parameswara expelled from Temasik by Siamese invaders?
A.	1395
B.	1396
C.	1397
1.	Bilakah Parameswara diusir oleh penceroboh Siam dari Temasik ?
A.	1395
B.	1396
C.	1397
2.	How did Malacca get its name?
A.	Animal.
B.	Strait.
C.	Tree.
2.	Bagaimana Melaka mendapat nama?
A.	Haiwan.
B.	Selat.
C.	Pokok.
3.	When does Parameswara convert to Islam?
A.	1413
B.	1414
C.	1415
3.	Bilakah Parameswara memeluk Islam?
A.	1413
B.	1414
C.	1415

<b>4. In.....Islam spreads in Melaka.</b>
<b>A. 15th century</b>
<b>B. 14th century</b>
<b>C. 13th century</b>
<b>4. Pada.....Islam tersebar di Melaka.</b>
<b>A. abad ke-15</b>
<b>B. abad ke-14</b>
<b>C. abad ke-13</b>

<b>Area:</b>	<i>GENERAL KNOWLEDGE</i>	<b>Sub-Area</b>	<i>MALAYSIAN CONSTITUTION</i>
--------------	--------------------------	-----------------	-------------------------------

<b>5. When was The Constitution of Malaysia enacted?</b>
<b>A. August 31, 1957</b>
<b>B. September 16, 1963</b>
<b>C. August 29, 1957</b>
<b>5. Bilakah Perlembagaan Malaysia digubal?</b>
<b>A. 31 Ogos 1957</b>
<b>B. 16 September 1963</b>
<b>C. 29 Ogos 1957</b>

<b>6. How many parts are there in the Constitution of Malaysia?</b>
<b>A. 14 Parts</b>
<b>B. 15 Parts</b>
<b>C. 16 Parts</b>
<b>6. Berapakah bahagian dalam Perlembagaan Malaysia?</b>
<b>A. 14 Bahagian</b>
<b>B. 15 Bahagian</b>
<b>C. 16 Bahagian</b>

<b>7.</b>	<b>How many parliament members are needed to amend the constitution?</b>
<b>A.</b>	<b>Two third of parliament members</b>
<b>B.</b>	<b>One third of parliament members</b>
<b>C.</b>	<b>Majority of parliament members</b>
<b>7.</b>	<b>Berapakah ahli parlimen yang diperlukan untuk meminda perlembagaan?</b>
<b>A.</b>	<b>Dua pertiga ahli parlimen</b>
<b>B.</b>	<b>Satu pertiga ahli parlimen</b>
<b>C.</b>	<b>Majoriti ahli parlimen</b>

<b>8.</b>	<b>What is the form of Malaysia Constitution?</b>
<b>A.</b>	<b>Written</b>
<b>B.</b>	<b>Unwritten</b>
<b>C.</b>	<b>Written and unwritten</b>
<b>8.</b>	<b>Apakah bentuk Perlembagaan Malaysia?</b>
<b>A.</b>	<b>Bertulis</b>
<b>B.</b>	<b>Tidak bertulis</b>
<b>C.</b>	<b>Bertulis dan tidak bertulis</b>

<b>Area:</b>	<i>GENERAL KNOWLEDGE</i>	<b>Sub-Area</b>	<i>RUKUN NEGARA</i>
--------------	--------------------------	-----------------	---------------------

<b>9.</b>	<b>When was Rukun Negara proclaimed</b>
<b>A.</b>	<b>August 31, 1957</b>
<b>B.</b>	<b>August 31, 1970</b>
<b>C.</b>	<b>June 1, 1969</b>
<b>9.</b>	<b>Bilakah Rukun Negara diisytiharkan?</b>
<b>A.</b>	<b>31 Ogos 1957</b>
<b>B.</b>	<b>31 Ogos 1970</b>
<b>C.</b>	<b>1 Jun 1969</b>

<b>10.</b>	<b>How many principles are there in the Rukun Negara?</b>
<b>A.</b>	<b>Three</b>
<b>B.</b>	<b>Four</b>
<b>C.</b>	<b>Five</b>
<b>10.</b>	<b>Berapakah prinsip Rukun Negara?</b>
<b>A.</b>	<b>Tiga</b>
<b>B.</b>	<b>Empat</b>
<b>C.</b>	<b>Lima</b>
<b>11.</b>	<b>Which principle of Rukun Negara is associated with the language aspect?</b>
<b>A.</b>	<b>Supremacy of the Constitution</b>
<b>B.</b>	<b>Courtesy and Morality</b>
<b>C.</b>	<b>Sovereignty of the Law</b>
<b>11.</b>	<b>Prinsip Rukun Negara manakah adalah dikaitkan dengan aspek bahasa?</b>
<b>A.</b>	<b>Keluhuran Perlembagaan.</b>
<b>B.</b>	<b>Kesopanan dan Kesusilaan.</b>
<b>C.</b>	<b>Kedaulatan Undang-Undang.</b>
<b>12.</b>	<b>Who is the highest ruler of the Rukun Negara?</b>
<b>A.</b>	<b>Prime Minister</b>
<b>B.</b>	<b>Cabinet Minister</b>
<b>C.</b>	<b>Yang di-Pertuan Agong</b>
<b>12.</b>	<b>Siapakah pemerintah tertinggi Rukun Negara?</b>
<b>A.</b>	<b>Perdana Menteri</b>
<b>B.</b>	<b>Menteri Kabinet</b>
<b>C.</b>	<b>Yang di-Pertuan Agong</b>

Area:	<i>CRITICAL THINKING</i>	Sub-Area	<i>LOGIC REASONING</i>
-------	--------------------------	----------	------------------------

13.	For English, Ridzuan scored 25% higher than Roziman's (60%). What is Ridzuan's score?
A.	85%
B.	15%
C.	75%
13.	Bagi Bahasa Inggeris, Ridzuan memperoleh markah 25% lebih tinggi daripada markah Roziman (60%). Berapakah markah Ridzuan?
A.	85%
B.	15%
C.	75%

14.	In the 100 meter sprinter, Tan Ah Seng recorded 12.5 seconds. Prakesh left 1 second behind Tan Ah Seng. How many seconds did Prakesh record?
A.	12.4 seconds
B.	11.5 seconds
C.	13.5 seconds
14.	Dalam acara pecut 100 meter, Tan Ah Seng mencatatkan masa 12.5 saat. Prakesh ketinggalan 1 saat di belakang Tan Ah Seng. Berapakah masa yang dicatatkan oleh Prakesh?
A.	12.4 saat
B.	11.5 saat
C.	13.5 saat

15.	The value for 5 (4+5) is
A.	14
B.	45
C.	14
15.	Nilai 5 (4+5) ialah
A.	14
B.	45
C.	14

16. In archery, Kamzan's points were 5601. Ramzan outperformed Kamzan by 600 points. How many points did Ramzan collect?

A. 5000

B. 5001

C. 6201

16. Dalam acara memanah, mata yang dipungut oleh Kamzan ialah 5601. Ramzan pula mengatasi Kamzan sebanyak 600 mata. Berapakah mata yang berjaya dipungut oleh Ramzan?

A. 5000

B. 5001

C. 6201

Area:	<i>CRITICAL THINKING</i>	Sub-Area	<i>CLASSIFICATION</i>
-------	--------------------------	----------	-----------------------

17. What is the odd numbered row in the box below?

16	36	9	25	81	54
----	----	---	----	----	----

A. 9

B. 54

C. 7

17. Apakah nombor ganjil dalam susunan kotak di bawah?

16	36	9	25	81	54
----	----	---	----	----	----

A. 9

B. 54

C. 81

18. Determine five consecutive numbers below that shows the total 22.

7, 3, 9, 6, 4, 1, 3, 7, 9, 3, 5, 4, 1, 7, 6, 5

A. 1 3 7 9 3

B. 9 3 5 4 1

C. 4 1 7 6 5

18. Tentukan lima nombor yang berurutan yang menunjukkan jumlah 22.

7, 3, 9, 6, 4, 1, 3, 7, 9, 3, 5, 4, 1, 7, 6, 5

A. 1 3 7 9 3

B. 9 3 5 4 1

C. 4 1 7 6 5


Area:	<i>CRITICAL THINKING</i>	Sub-Area	<i>PATTERN RECOGNITION</i>
-------	--------------------------	----------	----------------------------

**19. Determine the next pattern.**



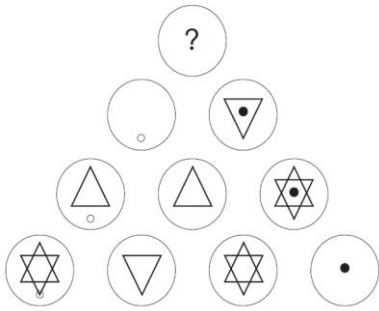
- A. 
- B. 
- C. 

**19. Tentukan bentuk yang seterusnya.**

- A. 
- B. 
- C. 



20.



Name the correct circle to replace the sign?

A.



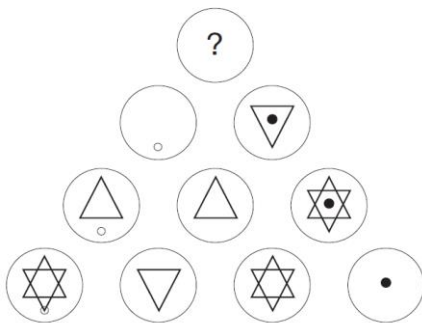
B.



C.



20.



Namakan bulatan yang betul untuk menggantikan tanda?

A.



B.



C.

